



தேசிய வகை கங்கார் தமிழ்ப்பள்ளி, கங்கார், பெர்லிஸ்.  
இறுதி ஆண்டு சோதனை 2014  
நலக்கல்வி- ஆண்டு 2

/48×100%

## பகுதி 1

### சரியான விடையை தேர்ந்தெடுத்து வட்டமிடவும்

1. நுரையீரல் உறுப்புகள்.....
  - A. இனப்பெருக்க
  - B. சுவாசத்திற்கு
  - C. ரத்தத்தை பம் செய்ய
  - D. ரத்த ஓட்டத்திற்கு
2. வள்ளியின் தந்தை அவரது தாத்தா கிராமத்தில் இறந்த செய்தியை அறிந்தார். வள்ளி தந்தையின் மனநிலை எப்படி இருக்கும்?
  - A. சந்தோஷமாக
  - B. பரிதாவமாக
  - C. வேதனையாக
  - D. பிடித்தமாக
3. தேவன் தனது பொழுது போக்கை கழிக்க ஒவ்வொரு மாலையிலும் அவரது தந்தை தம்பியுடனும் சேர்ந்து பூங்காவில் \_\_\_\_\_ செய்வார்.
  - A. குதிக்க
  - B. தூங்குவதை
  - C. பேச
  - D. மெதுவோட்டம் (Jogging)

4. நாம் வெளிப்புற நடவடிக்கைகள் அதாவது மலை ஏறுவது போன்ற நடவடிக்கையை மேற்கொள்வதற்கு முன்பு \_\_\_\_\_ அணிய வேண்டும்.

- A. ஒரு முழுமையான பாதுகாப்பு கருவி
- B. தளர்வான ஆடை மற்றும் தொப்பி
- C. தொப்பி மற்றும் பெல்ட்
- D. பூட்ஸ் மற்றும் முழங்கை பட்டைகள்

5. கிழே கொடுக்கப்பட்டுள்ள குறிப்புகளில் எது தனது உறுப்பு பாதுக்காப்பும் தூய்மையையும் பாதுகாக்கும் *வழி அல்ல*

- A. ஒவ்வொரு சிறுநீர் கழித்த பிறகு உங்கள் பாலியல் உறுப்புகளை சுத்தம் செய்வது.
- B. பாலியல் உறுப்புகளை துடைக்க ஒரு ஈரமான துண்டு பயன்படுத்தவும்
- C. உங்கள் கைகளை கழுவ சோப்பு பயன்படுத்தாதீர்!
- D. பாலியல் உறுப்புகளை சுத்தம் செய்ய கழுவு நீரை பயன்படுத்தவும்.

6. தனுஷ்வரன் தனது சுத்தத்தையும் பாதுகாப்பையும் பேணுவதற்கு தனது \_\_\_\_\_.

- A. ஆடையை துவைத்து மடித்து வைக்கிறார்.
- B. காலணிகளை வீசுகிறார்
- C. வீட்டை கூட்டி குப்பையை வைத்து கொள்கிறார்
- D. நாற்காலியை துடைத்து கட்டிவைக்கிறார்

7. லிஷா ஆசிரியர் தினத்தை முன்னிட்டு திருமதி பவானி அவர்களின் \_\_\_\_\_ ஒட்டி வாழ்த்து அட்டை தயாரித்தார்.

- A. சாதனையையும் உழைப்பையும்
- B. நன்றியை
- C. விரைவில் குணமாக
- D. வெற்றி பெற

8. குப்பை கூளங்கள் சூழலை பாதிக்கும். கொசுக்கள் பெருக்கி ..... நோய் பரவும்.

- A. மலேரியா
- B. காலரா
- C. வயிற்றோட்டம்
- D. டெங்கு

9. பந்து விளையாட்டில் திசை மாறும் போது விரைவாக செல்ல ஒரு நபருக்கு \_\_\_\_\_ தன்மை அவசியமாகும்.

- A. இருப்பு (*Imbangan*)
- B. வளைந்து கொடுக்கும் தன்மை (*Kelenturan*)
- C. விரைவு (*Ketangkasan*)
- D. கிரியேட்டிவ் இயக்கம் (*Pergerakan kreatif*)

10. பந்தை இழுத்தும் தடுப்பது ..... ஆகும்

A. ஒரு அல்லாத இடப்பெயர்ச்சி (*bukan lokomotor*)

B. இடப்பெயர்ச்சி (*lokomotor*)

C. கையாள்தல் கருவிகள் (*manipulasi alatan*)

D. அல்லாத இடப்பெயர்ச்சி சூழ்ச்சி கருவி (*manipulasi alatan dan bukan lokomotor*)

11. மணிப் பை அனுப்ப பயன்படுத்தப்படும் கருவி பெயர்

\_\_\_\_\_ ஆகும்.

A. சின்ன பந்து

B. பிரம்பு வளையம்

C. மணிப் பை

D. பெரிய பந்து

12. நம் உடலில் எத்தனை எலும்புகள் உள்ளன?

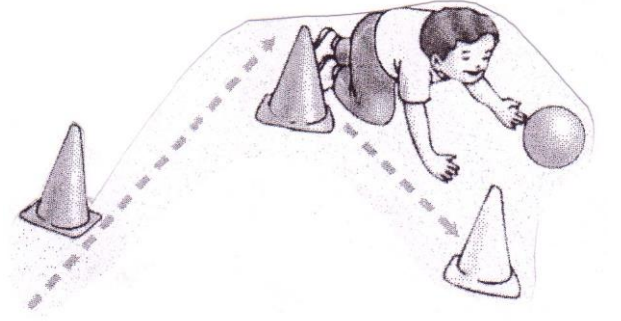

A. 206

B. 1008

C. 108


D. 306

13. இதனில் எது பிழையான இணைப்பு?

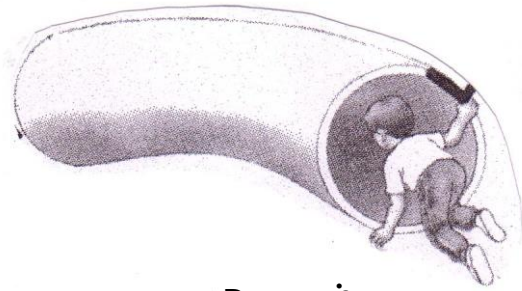


A. கூம்பின் இடையிய வளைந்து தவலுதல்

C. கூம்பின் இடையிய பந்தை  
தட்டிக்கொண்டு வளைந்து  
தவலுதல்



B. ஒற்றைக் காலில் குதித்தல்



D. தவழ்வது

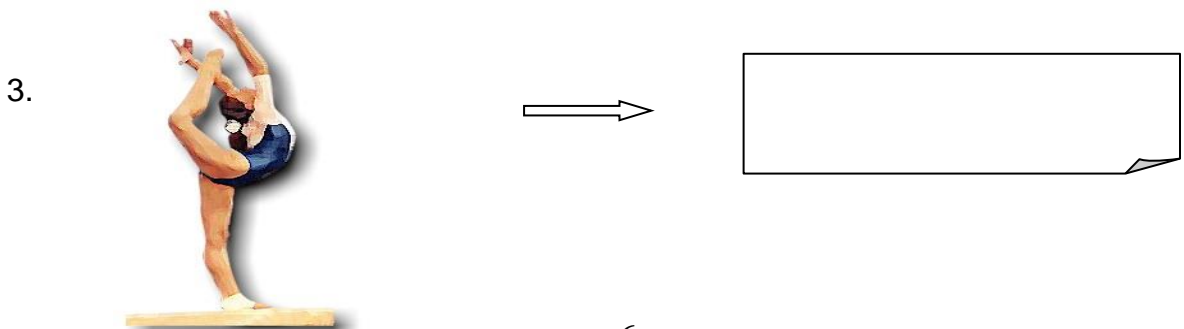
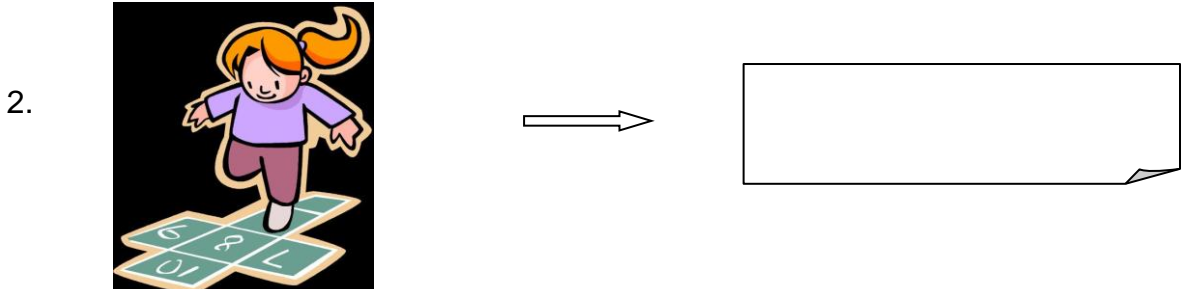
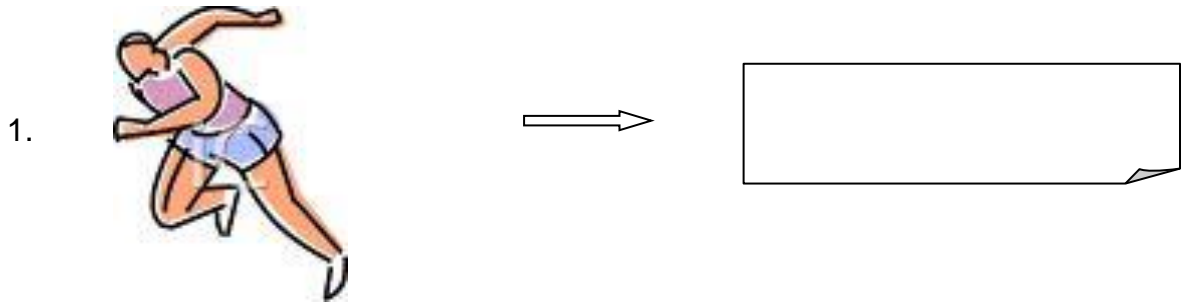
26 புள்ளிகள்

## பகுதி 2



வழங்கப்பட்ட இடத்தில் பின்வரும் விளையாட்டுகள் /

விளையாட்டுகளை எழுது.



பூப்பந்து	கால்ப்	ஹை ஜம்ப்ப்
சக்ரம் வீசுவது Lempar Cakera	ஜிம்னாஸ்டிக்ஸ்	பனை ரவைகள் Lontar Peluru
பாராலிம்பிக்	ஓட்டப்பந்தையம்	சைக்கிள் ஓட்டுவது
ஐஸ் ஹொக்கி	டென்னிஸ்	ஒற்றை காலில் குதிப்பது Ketinting





4.




5.





6.




7.





8.



9.

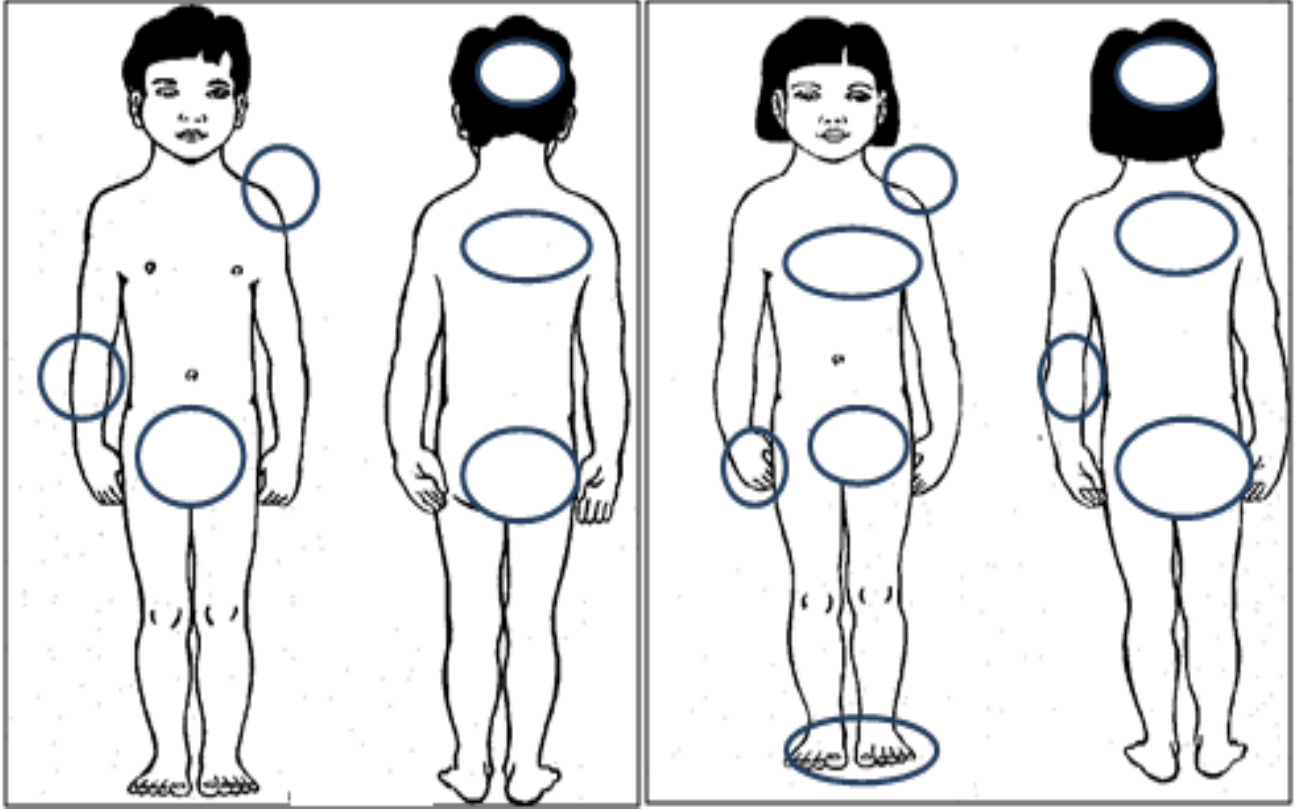


10.



உ. கோடிடவும்

தலை பெண்குறி பிட்டம் ஆண்குறி கால் உடல்



கால் விரல்கள் முதுகு மார்பு கை விரல்கள் கை

12 புள்ளிகள்